


Zadanie 11. Oblicz sumy sposobem pisemnym (pod kreską).


Z każdego zbioru wybieraj po jednym składniku i obliczaj ich sumy. Wykonaj minimum 15 przykładów. Liczby ze zbiorów możesz wykorzystać więcej niż jeden raz.

Pamiętaj o właściwym podpisywaniu liczb, jedności pod jednościami, dziesiątki pod dziesiątkami, setki pod setkami itd.

A



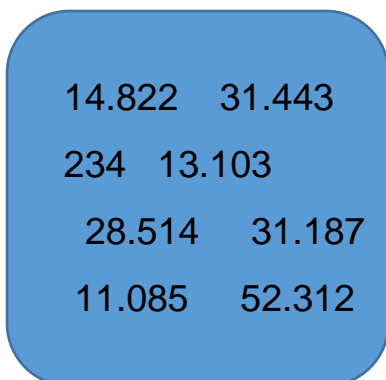
B




Zadanie 12. Oblicz sumy trzech składników sposobem pisemnym.

Z każdego zbioru wybieraj po jednym składniku i obliczaj ich sumy. Wykonaj minimum 10 przykładów. Liczby ze zbiorów możesz wykorzystać więcej niż jeden raz

A



B



C

