



Choroby, którymi można się zarazić



Zobacz zdjęcie
docwiczenia.pl
Kod: T46R99

- 1** Zapoznaj się z objawami chorób, na które zachorowali Klara, Zosia i Tymek. Następnie wpisz pod każdą wypowiedzią lekarza imię właściwego dziecka.



Klara

Jestem bardzo osłabiona. Poza tym piecze mnie gardło i mam trudności z przełykaniem. Ból gardła promieniuje aż do uszu. Możliwe, że mam gorączkę.



Tymek

Od rana nic nie jadłem, ponieważ bardzo źle się czuję. Okropnie boli mnie brzuch i cały czas mam mdłości. Kilka razy wymiotowałem.



Zosia

Mam wysoką gorączkę – rano termometr wskazywał ponad 38°C. Prawie cały czas kaszle, mam dreszcze, silne bóle mięśni i głowy.

To zatrucie pokarmowe. Musisz przyjmować dużo płynów. Najlepiej pij wodę: przegotowaną lub mineralną niegazowaną. Zadbaj także o odpowiednią dietę. W takiej sytuacji zalecane są produkty gotowane, lekkostrawne.

Badanie wskazuje, że to angina. W tym wypadku konieczne będzie nie tylko pozostanie w domu, lecz także natychmiastowe zastosowanie antybiotyku.



To grypa. Musisz zostać w domu, zażywać środki przeciwgorączkowe, witaminy i preparaty wzmacniające. Niestety, wirusy są niewrażliwe na działanie antybiotyków.



- 2** Zapisz nazwy pięciu chorób, którym można zapobiegać, stosując szczepionki.

- 3 Choroby zakaźne i pasożytnicze mogą się rozprzestrzeniać w różny sposób. Wpisz nazwy chorób z ramki w odpowiednie miejsca.

angina • grypa • owsica • salmonelloza • wścieklizna •
tężec • borelioza • przeziębienie • tasiemczyca

Rozprzestrzeniają się z pożywieniem i wodą

Rozprzestrzeniają się przez uszkodzoną skórę

Rozprzestrzeniają się z wdychanym powietrzem

- 4 Zamaluj na **czzerwono** okienka przy zdaniach opisujących sytuacje, których skutkiem może być zatrucie pokarmowe.

- ▶ Zanim Kasia zjadła jogurt, sprawdziła datę jego przydatności do spożycia.
- ▶ Marta zapomniała umyć ręce przed obiadem.
- ▶ Adam ponownie zamroził lody, które roztopiły się w drodze ze sklepu do domu.
- ▶ Leszek usunął z dżemu cienką warstwę pleśni, po czym posmarował nim naleśniki.
- ▶ Klara dokładnie umyła owoce i warzywa pod bieżącą wodą.

- 5 Uzupełnij tabelę, wpisując brakujące informacje.

Nazwa choroby	Przyczyna	Sposób zarażenia
		zabrudzenie rany ziemią
Wścieklizna	wirusy wścieklizny	
Borelioza		
	wirusy zapalenia mózgu	ukąszenie kleszcza

Działania pisemne

Dodawanie pisemne – karta pracy III.1.1

Oblicz pisemnie. ► Jeśli poprawnie rozwiążesz dwa kolejne przykłady z jednego poziomu, możesz przejść na następny poziom.

Poziom A

- | | | |
|----------------|----------------|-----------------|
| a) $258 + 31$ | e) $125 + 343$ | i) $513 + 422$ |
| b) $143 + 25$ | f) $153 + 42$ | j) $129 + 5110$ |
| c) $247 + 51$ | g) $574 + 425$ | k) $8248 + 641$ |
| d) $688 + 111$ | h) $652 + 347$ | l) $1117 + 881$ |

Poziom B

- | | | |
|----------------|-----------------|------------------|
| a) $258 + 132$ | e) $324 + 567$ | i) $243 + 382$ |
| b) $75 + 116$ | f) $1539 + 146$ | j) $1432 + 663$ |
| c) $191 + 46$ | g) $141 + 139$ | k) $1832 + 7954$ |
| d) $105 + 28$ | h) $351 + 419$ | l) $2345 + 5812$ |

Poziom C

- | | | |
|-----------------|----------------|-----------------|
| a) $258 + 263$ | e) $382 + 179$ | i) $241 + 569$ |
| b) $135 + 296$ | f) $123 + 987$ | j) $382 + 198$ |
| c) $146 + 354$ | g) $729 + 673$ | k) $689 + 1543$ |
| d) $2465 + 267$ | h) $182 + 162$ | l) $263 + 648$ |

Poziom D

- | | | |
|----------------------|----------------------|-----------------------------|
| a) $2581 + 319 + 28$ | e) $912 + 117 + 108$ | i) $1518 + 2911 + 451 + 12$ |
| b) $130 + 331 + 267$ | f) $135 + 109 + 85$ | j) $32 + 450 + 352 + 50$ |
| c) $258 + 31 + 144$ | g) $654 + 195 + 28$ | k) $15 + 178 + 912$ |
| d) $105 + 183 + 311$ | h) $399 + 507 + 443$ | l) $2558 + 331 + 67 + 112$ |

Mistrz

- | | | |
|--------------------------------|-----------------------------|--------------------------|
| a) $699 + 20\ 854 + 1245 + 45$ | e) $1726 + 4505 + 678 + 69$ | i) $9999 + 999 + 99 + 9$ |
| b) $1942 + 589 + 899$ | f) $29 + 931 + 5457 + 98$ | j) $8888 + 888 + 88 + 8$ |
| c) $28\ 951 + 1983 + 24\ 098$ | g) $5487 + 9876 + 98 + 754$ | k) $7777 + 777 + 77 + 7$ |
| d) $258 + 8931 + 897 + 56$ | h) $978 + 67\ 589 + 76$ | l) $9898 + 989 + 98$ |

IV.3 Prostokąty i kwadraty

- 1 Sprawdź ekierką, które kąty są proste. Pokoloruj je na żółto, a pozostałe kąty na czerwono. Uzupełnij zdania, wpisując *jest* lub *nie jest*.



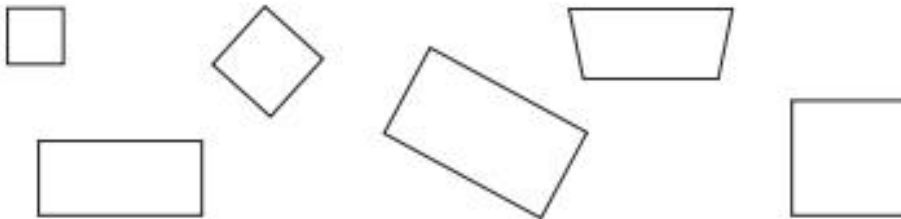
To _____ prostokąt.



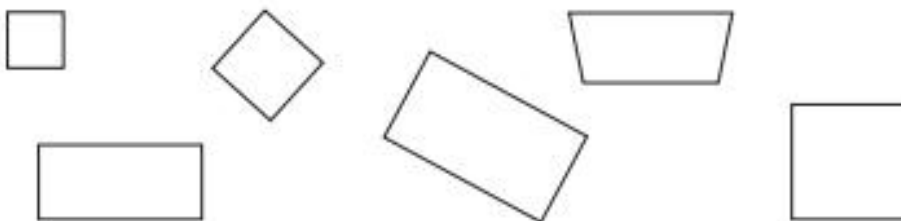
To _____ prostokąt.

- 2 Pokoloruj:

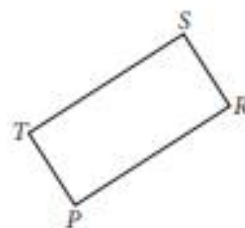

- a) kwadraty na niebiesko, a inne figury na żółto.



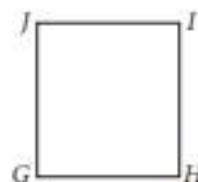
- b) prostokąty na niebiesko, a inne figury na żółto.



3 W każdym prostokącie zaznacz na czerwono wszystkie wierzchołki.



4 W każdym prostokącie zaznacz na zielono wszystkie boki.



5 Zmierz i zapisz w okienkach długości boków narysowanych prostokątów.

